

Miejsce
na naklejkę
z kodem szkoły

dysleksja

MFA-R1_1P-072

EGZAMIN MATURALNY Z FIZYKI I ASTRONOMII

POZIOM ROZSZERZONY

MAJ
ROK 2007

Czas pracy 150 minut

Instrukcja dla zdającego

1. Sprawdź, czy arkusz egzaminacyjny zawiera 13 stron (zadania 1–5). Ewentualny brak zgłoś przewodniczącemu zespołu nadzorującego egzamin.
2. Rozwiązania i odpowiedzi zapisz w miejscu na to przeznaczonym przy każdym zadaniu.
3. W rozwiązaniach zadań rachunkowych przedstaw tok rozumowania prowadzący do ostatecznego wyniku oraz pamiętaj o jednostkach.
4. Pisz czytelnie. Używaj długopisu/pióra tylko z czarnym tuszem/atramentem.
5. Nie używaj korektora, a błędne zapisy wyraźnie przekreśl.
6. Pamiętaj, że zapisy w brudnopisie nie podlegają ocenie.
7. Podczas egzaminu możesz korzystać z karty wybranych wzorów i stałych fizycznych, linijki oraz kalkulatora.
8. Wypełnij tę część karty odpowiedzi, którą koduje zdający. Nie wpisuj żadnych znaków w części przeznaczonej dla egzaminatora.
9. Na karcie odpowiedzi wpisz swoją datę urodzenia i PESEL. Zamaluj pola odpowiadające cyfrom numeru PESEL. Błędne zaznaczenie otocz kółkiem i zaznacz właściwe.



Za rozwiązanie
wszystkich zadań
można otrzymać
łącznie
60 punktów

Życzymy powodzenia!

Wypełnia zdający przed
rozpoczęciem pracy

--	--	--	--	--	--	--	--	--	--	--	--	--

PESEL ZDAJĄCEGO


--	--	--

KOD
ZDAJĄCEGO

1.6 (2 pkt)

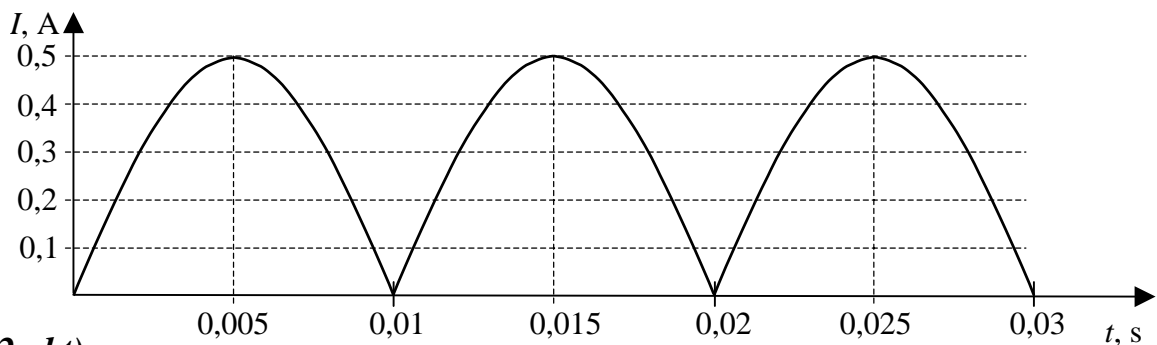
Wózek po uderzeniu kulki odjeżdża, natomiast kulka zaczyna poruszać się ruchem drgającym, w którym nić podczas maksymalnego wychylenia tworzy z pionem kąt 27° . Podaj, czy w opisanej sytuacji można **dokładnie** obliczyć okres wahań takiego wahadła korzystając

z zależności $T = 2\pi\sqrt{\frac{l}{g}}$. Odpowiedź uzasadnij.


**Zadanie 2. Prąd zmienny (12 pkt)**

Do źródła prądu przemiennego poprzez **układ prostowniczy** dołączono żarówkę, w której zastosowano włókno wolframowe. Opór żarówki podczas jej świecenia wynosił $100\ \Omega$.


Na wykresie poniżej przedstawiono zależność natężenia prądu elektrycznego płynącego przez żarówkę od czasu.

**2.1 (2 pkt)**

Podaj, jaką wartość oporu (większą, czy mniejszą niż $100\ \Omega$) miało włókno żarówki przed dołączeniem jej do źródła prądu. Odpowiedź uzasadnij.

**2.2 (2 pkt)**

Określ, analizując wykres, częstotliwość zmian napięcia **źródła prądu przemiennego** zasilającego układ prostowniczy.



3.2 (3 pkt)

W tabeli przedstawiono wyniki pomiarów częstotliwości odbieranej przez odbiornik, położenia oraz wartości prędkości dla poruszającego się wózka, dokonanych za pomocą automatycznego układu pomiarowego. Przyjmij, że wartość prędkości ultradźwięków w powietrzu wynosi 330 m/s.

f , Hz	1 000 000	998 789	997 582	996 377	995 175	993 976
x , m	0	0,1	0,4	0,9	1,6	2,5
$u_{\dot{z}_r}$, m/s	0	0,4	0,8	1,2		2,0

Uzupełnij tabelę, wykonując niezbędne obliczenia.

3.3 (3 pkt)


Narysuj wykres zależności $u_{\dot{z}_r}^2$ od $2x$, obliczając i uzupełniając brakujące wartości w tabeli.

f , Hz	1 000 000	998 789	997 582	996 377	995 175	993 976
x , m	0	0,1	0,4	0,9	1,6	2,5
$2x$, m						
$u_{\dot{z}_r}$, m/s	0	0,4	0,8	1,2	1,6	2,0
$u_{\dot{z}_r}^2$, (m/s) ²						


Wypełnia egzaminator!	Nr zadania	2.5	3.1	3.2	3.3
	Maks. liczba pkt	2	2	3	3
	Uzyskana liczba pkt				

3.4 (2 pkt)

Wyprowadź zależność matematyczną pozwalającą obliczyć wartość przyspieszenia wózka. Przyjmij, że dane są **tylko** położenie x i prędkość u_{zr} wózka.

**3.5 (2 pkt)**

Oblicz wartość przyspieszenia wózka.



5.2 (3 pkt)

Wykaż, że średnia gęstość materii jądrowej jest niezależna od liczby masowej. Wykorzystaj założenia podane poniżej.

1. Jądro atomowe można traktować jako kulę (objętość kuli $V = \frac{4}{3} \pi R^3$).

2. Empiryczny wzór określający promień jądra atomowego ma postać

$$R = r \sqrt[3]{A}, \text{ gdzie } r = 1,2 \cdot 10^{-15} \text{ m, zaś } A \text{ jest liczbą masową.}$$

3. Masę jądra atomu można szacować jako iloczyn liczby masowej i masy neutronu.

Wypełnia egzaminator!	Nr zadania	4.4	4.5	5.1	5.2
	Maks. liczba pkt	2	4	2	3
	Uzyskana liczba pkt				

BRUDNOPIS